

۱. از جمله وظایف هیئت مدیره و اعضای هیئت مدیره عبارتند از: با شماره داوطلبی با آگاهی کامل یکسان بودن شماره
شماره با شماره در بالای کارت ورود به جلسه، بالای پاسخنامه و دفترچه سوالات، نوع و
قد کنترل در جلسه و روی دفترچه سوالات و پاسخنامه با تأیید می‌نمایم.

امضا:

تأمین اجتماعی


۱. به منظور اجرای گردش کار مربوط به ارائه خدمات و تعهدات کوتاه مدت بیمه شدگان با جلب رضایتمندی آنان و
با رعایت کامل اصول و قوانین بیمه‌ای، به کدام قسمت مربوط می‌شود؟
(۱) امور اداری و خدمات عمومی و رفاه
(۲) نام‌نویسی و حساب‌های انفرادی
(۳) امور فنی مستورین‌ها
(۴) امور بیمه‌شدگان
۲. به منظور تسهیل استفاده سازمان تأمین اجتماعی به تأیید و تصویب کدام مرجع رسیده است؟
(۱) مجلس شورای اسلامی - شورای عالی رفاه و تأمین اجتماعی
(۲) شورای عالی رفاه و تأمین اجتماعی - هیئت وزیران
(۳) وزارت تعاون، کار و رفاه اجتماعی - هیئت وزیران
(۴) هیئت وزیران - مجلس شورای اسلامی
۳. تکیه‌گاه اصلی سازمان تأمین اجتماعی کدام مورد است؟
(۱) مشارکت دو جانبه بیمه‌شدگان و کارفرمایان
(۲) مشارکت دو جانبه سازمان‌های کارگری و کارفرمایان
(۳) مشارکت سه جانبه کارفرمایان، بیمه‌شدگان و دولت
(۴) مشارکت چهار جانبه دولت، سازمان‌های کارگری و کارفرمایان و مجلس شورای اسلامی
۴. چند نفر از اعضای هیئت‌امناعی سازمان تأمین اجتماعی با پیشنهاد وزیر تعاون، کار و رفاه اجتماعی و با
تصویب شورای عالی رفاه و تأمین اجتماعی تعیین می‌شوند؟
(۱) ۹
(۲) ۶
(۳) ۲
(۴) ۳
۵. «تعیین اعضای هیئت‌مدیره شرکت‌ها و مؤسسات تابع، بدون واسطه و هلدینگ‌های زیرمجموعه»، وظیفه
کدام یک از ارکان سازمان تأمین اجتماعی است؟
(۱) مدیرعامل
(۲) هیئت‌امناعی
(۳) هیئت نظارت
(۴) هیئت‌مدیره
۶. تصمیمات اعضای هیئت‌مدیره سازمان تأمین اجتماعی، با رای موافق حداقل چند نفر از اعضای حاضر،
تصویب خواهد بود؟
(۱) ۵
(۲) ۴
(۳) ۲
(۴) ۳
۷. اشخاصی که باید در میان سهامداران جهت حضور در مجامع مؤسسات و شرکت‌هایی که تمام یا قسمتی از سهام آنها
معلق به سازمان می‌باشد، از وظایف کدام رکن سازمان تأمین اجتماعی است؟
(۱) هیئت‌مدیره
(۲) هیئت‌نظارت
(۳) هیئت‌امناعی
(۴) مدیرعامل
۸. طراحی و تدوین راهبردها و استراتژی‌های سرمایه‌گذاری، جمع‌آوری تمامی آمار و اطلاعات مربوط به
دارایی‌ها و بدهی سازمان و متعاقب آن، تدوین در جهت مکانیزه نمودن اطلاعات و به‌روزرسانی مستمر آنها،
از مهمترین اهداف کدام معاونت سازمان تأمین اجتماعی است؟
(۱) فنی و درآمد
(۲) امور استان‌ها
(۳) حقوقی و امور مجلس
(۴) امور اقتصادی و برنامه‌ریزی

- ۹- «فراموشی ناشی از غلبه سطوح» و «کمک هزینه (ولاد)» به ترتیب جزو کدام نوع تعهدات سازمان تأمین اجتماعی است؟
 (۱) بلندمدت - بلندمدت
 (۲) کوتاهمدت - بلندمدت
 (۳) کوتاهمدت - کوتاهمدت
 (۴) بلندمدت - کوتاهمدت
- ۱۰- «کمسیون های پزشکی تجدیدنظر» و «فعالیت های مربوط به کلینیک های طب کار» به ترتیب جزو کدام اداره کل درمان است؟
 (۱) مستقیم - مستقیم
 (۲) مستقیم - غیرمستقیم
 (۳) پشتیبانی - پشتیبانی
 (۴) غیرمستقیم - غیرمستقیم

عوتی و توانمندی های عمومی:

راهنمایی: هر کدام از سؤال های ۱۱ تا ۱۶ را به دقت بخوانید و جواب هر سؤال را در پاسخنامه علامت بزنید.

- ۱۱- در هر کدام از اشکال زیر، بین اعداد ارتباط خاصی و مشترکی برقرار است. به جای علامت سؤال، کدام عدد باید قرار بگیرد؟




(۱) ۳

(۲) ۶

(۳) ۷

(۴) ۹

- ۱۲- در شکل زیر، یک مستطیل که نسبت اضلاع آن ۴ به ۹ است، دیده می شود که به ۱۲ قسمت مساوی تقسیم شده است. هر کدام از مستطیل های کوچک، چه نسبت اضلاعی دارد؟



(۱) ۳ به ۴

(۲) ۴ به ۹

(۳) ۹ به ۱۲

(۴) ۱۶ به ۲۷

- ۱۳- کودکی با ۵۰ تعداد رنگی، تعدادی مربع و تعدادی مثلث جدا از هم ساخته است. حداکثر تعداد اشکالی که کودک با این تعداد عدد رنگی می تواند بسازد، کدام است؟

(۱) ۱۶

(۲) ۱۵

(۳) ۱۴

(۴) ۱۳

- ۱۴- چند عدد دورقمی وجود دارد که اگر ۵ به آن اضافه شود، مضرب ۱۳ می شود؟

(۱) ۱۰

(۲) ۹

(۳) ۸

(۴) ۷

۱۵- در یک گزارش از عملکرد یک کارمند، آمده است که در سال جاری نسبت به سال قبل، وی تعداد روزهایی که سر کار بوده را ۲۰ درصد افزایش داده و به ۱۹۲ روز رسانده است. وی سال قبل، چند روز کار کرده است؟

(۱) ۱۵۲

(۲) ۱۶۰

(۳) ۱۷۵

(۴) ۱۸۰

۱۶- به ازای هر ۵ روزی که علی از اداره‌اش مرخصی گرفته، محمد ۹ روز مرخصی گرفته است. اگر این دو نفر روی هم ۷۰ روز مرخصی گرفته باشند، حداقل چند روز علی سر کار و محمد در مرخصی بوده است؟

(۱) ۲۸

(۲) ۲۴

(۳) ۳۰

(۴) ۱۶

راهنمایی: اطلاعات زیر را بخوانید و با توجه به آن، به سؤال‌های ۱۷ تا ۲۰ که در زیر آن آمده است، پاسخ دهید و در پاسخنامه علامت بزنید.

شرکتی برای تأمین کادر اداری خود، با هفت نفر به اسامی A, B, C, D, E, F و G مصاحبه کرده، سپس آنها را برحسب عملکردشان مرتب نموده و ۴ نفر اول را قبول و ۳ نفر آخر را رد اعلام می‌کند. اطلاعات زیر، درخصوص این افراد و وضعیت مصاحبه‌شان موجود است.

- B و E یا هر دو قبول می‌شوند یا هر دو رد.
- A و G، یکی قبول و دیگری رد می‌شود.
- عملکرد D در مصاحبه، از C بهتر است.

۱۷- اگر C قبول شده باشد، کدام مورد به‌طور قطع، صحیح است؟

(۱) E رد شده است.

(۲) G رد شده است.

(۳) B قبول شده است.

(۴) A قبول شده است.

۱۸- اگر F رد شده باشد، چند نفر از ۶ نفر دیگر، قبولی‌شان قطعی می‌شود؟

(۱) ۱

(۲) ۲

(۳) ۳

(۴) ۴

۱۹- اگر C رد ولی A قبول شده باشد، وضعیت کدام فرد زیر، از لحاظ قبولی یا ردی در مصاحبه، به‌طور قطع، مشخص نمی‌شود؟

(۱) B

(۲) D

(۳) E

(۴) G

۱- اگر قبول و اگر رد شده باشد، کدام یک از موارد زیر، لزوماً صحیح است؟

۱- قبول شده است.

۲- رد شده است.

۳- وصیت و از لحاظ قبولی، با ردی، مشابه است.

۴- و ۱ و ۲

۵- فقط ۱

۶- فقط ۲

مطابق اشعری:

۲۱- با توجه به آیه شریفه «وَلَمْ يَخْلُقْ الَّذِينَ أَسْلَمُوا إِلَّا ذُنُوبًا وَأَعْتَبُوهَا صَالِحًا» تا چه حد، کدام مورد تحقق می‌یابد؟

۱- تمايلات و تمایلاتی که انسان‌ها با تمایلاتی پاسخ مناسب آنها در جهان آخرت

۲- رشد و شکوفایی استعدادها و سرمایه‌های مختلف، به‌ویژه نهاده‌شده در انسان

۳- اراده الهی در واقع بزرگ و با عظمت معاد با توجه به قدرت خداوند

۴- وسعت‌های خداوند در دستیابی همه انسان‌ها به نتایج اعمالشان

۲۲- از آیه شریفه «وَحَتَّىٰ إِذَا جَاءَ أَحَدَهُمُ الْمَوْتُ قَالَ رَبِّ ارْجِعُونِ لَعَلِّي أَعْمَلُ صَالِحًا فِيمَا تَرَكْتُ» کدام مفهوم زیر

در یافت می‌شود؟

۱- با تحقق مرگ، فعالیت آگاهانه روح با جسم دوباره می‌یابد.

۲- با تحقق مرگ، فعالیت آگاهانه روح، همچنان ادامه دارد.

۳- مرگ، پایان بخش همه آرزوهای تحقق نیافته است.

۴- اعمال نادرست انجام‌شده قابل جبران نیست.

۲۳- به ترتیب در کدام مرحله زیر، نیکوکاران و بدکاران تقاضای اساسی پیدا می‌کنند و به کاران برای نجات خویش

از جهنم قیامت، به چه روشی متوسل می‌شوند؟

۱- دادن نامه اعمال - نامه حسرت و توبه

۲- حضور شاهدان - نامه حسرت و توبه

۳- دادن نامه اعمال - سوگند دروغ

۴- حضور شاهدان - سوگند دروغ

۲۴- تصرف در عالم خلقت به اذن خداوند، نشانه وصول به کدام مرتبه ولایت است؟

۱- تشریفاتی

۲- ظاهری

۳- معنوی

۴- حجابی

۲۵- عبارت «من كنت مولاه فهذا علي مولاه» به دنبال ابلاغ کدام آیه شریفه بیان شد؟

۱- «يَا أَيُّهَا الَّذِينَ آمَنُوا أَطِيعُوا اللَّهَ وَأَطِيعُوا الرَّسُولَ وَ...»

۲- «إِنَّمَا يُرِيدُ اللَّهُ لِيُذْهِبَ عَنْكُمُ الرِّجْسَ أَهْلَ الْبَيْتِ...»

۳- «إِنَّمَا وَلِيُّكُمُ اللَّهُ وَرَسُولُهُ وَالَّذِينَ آمَنُوا الَّذِينَ...»

۴- «يَا أَيُّهَا الرَّسُولُ بَلِّغْ مَا أُنْزِلَ إِلَيْكَ مِنْ رَبِّكَ...»

۲۶- به ترتیب، چه کسی خلافت را به سلطنت تبدیل کرد و کدام جنگ را علیه امیرالمؤمنین علی (ع) به راه انداخت؟

۱- معاویه - صفین

۲- معاویه - جمل

۳- معاویه - جمل

۴- معاویه - صفین

۲۷- گذشته سرخ و آینده سبز، به ترتیب از عوامل بومی کدام جامعه است و افرادی موصوف به چه وضعی‌اند؟

۱- توحیدی - منتظر

۲- توحیدی - منتظر

۳- توحیدی - معترض

۴- توحیدی - معترض

۲۸- کدام یک، به ترتیب، جزو «حق رهبر بر مردم» و «حق مردم بر رهبر» است؟

۱- استقامت و پایداری در برابر مشکلات - حفظ استقلال کشور

۲- تلاش برای اجرای احکام و دستورات الهی - حفظ استقلال کشور

۳- استقامت و پایداری در برابر مشکلات - مشارکت در نظارت همگانی

۴- تلاش برای اجرای احکام و دستورات الهی - مشارکت در نظارت همگانی

- ۲۹ وجود کدام خصوصیت در عمل به آن روح می بخشد؟
 (۱) حفظ صورت عمل
 (۲) قصد و نیت خالص
 (۳) توحید عبادی در فرد و در جامعه، به ترتیب به کدام صورت تعلی پیدا می کند؟
 (۱) اعتقاد خالص به خدا داشتن - اطاعت و پیروی (ص)
 (۲) اعتقاد خالص به خدا داشتن - تحقق قسط و عدالت
 (۳) پرستش و اطاعت از خدا - تحقق قسط و عدالت
 (۴) پرستش و اطاعت از خدا - تحقق قسط و عدالت

زبان و ادبیات فارسی:

- ۳۱ - معنی کدام واژه، «ناورست» است؟
 (۱) مسحور: شیفته
 (۲) مسامحه: ساده انگاری
 (۳) در کدام گروه کلمه، «غلط املایی» وجود دارد؟
 (۱) مستخر و مطیع - منع و سخت - موهبت و دهش
 (۲) مبهوت و متحیر - گیاه معیان - فرست و فرست
 (۳) هیاهو و غوغا - ملحق و پیوسته شده - آفرخش و صافه
 (۴) خوش نمودن و تفکر - حزن و اندوه - صنع و آفرینش
- ۳۲ - پدیدآورنده هریک از آثار روبه رو، به ترتیب چه کسی است؟
 (۱) مجد خوافی - نظامی گنجهای - نظامی عروضی
 (۲) مجد خوافی - نظامی عروضی - خواجه نصیرالدین توسی
 (۳) عنصرالمعالی کیکاووس - نظامی گنجهای - محمدبن منور
 (۴) خواجه نصیرالدین توسی - سعدالدین درویشی - نظامی گنجهای
- ۳۳ - کدام بیت، «فاقد» آرایه ایهام است؟
 (۱) چون جام شفق موج زند خون به دل من
 (۲) بی مهر رخت روز مرا نور نمائده است
 (۳) بارآ که در فراق تو چشمه اندوار
 (۴) غنایتی که تو را بود اگر مبدل شد
- ۳۴ - معنی عبارت «اجل نامده مردم را حسد بگشدد» کدام است؟
 (۱) انسان حسود، مردم را قبل از اینکه مرگشان فرا برسد، می کشد
 (۲) حسادت باعث مرگ مردم می شود، قبل از اینکه مرگشان فرا برسد
 (۳) حسادت همچون اجل معلق مردم را از پای درمی آورد و نابود می کند
 (۴) مادام که انسان زنده باشد و اجلس نرسیده، حسادت انسان ها را به طرف خود می کشد
- ۳۵ - «چو کاری بی فصول من بر آید»
 (۱) سکوت
 (۲) خودنمایی
 (۳) مفهوم کدام بیت، با سایر ابیات تفاوت دارد؟
 (۱) نشستی به جای دگر کس بسی
 (۲) چو از چایکان در دویمن گرو
 (۳) به غفلت بدادی ز دست آب پاک
 (۴) گر آن باد پایان برفتند نیز
- ۳۶ - تشبیه به جای تو دیگر کسی
 نبردی چه افتان و خیزان برو
 چه چاره کنون جز تیمم به خاک
 تو بی دست و پای از نشستن بخیز

- از بیان عمومی - مترک در کلیه عناوین شغلی؟ مشهود است؟
۲۸. در کدام عبارت، «گزتابی» مشهود است؟
- (۱) آثار ادبی ایران آینه اندیشه‌ها، هنرمندی‌ها و عظمت روحی و معنوی ملت ایران است.
 - (۲) صدایی که به گوشم رسید حزین‌ترین و عاشقانه‌ترین لحنی بود که در عمرم شنیده بودم.
 - (۳) عبور هواپیما از روی دریای مدیترانه همیشه آدمی را غرق دریای تصورات تاریخی می‌کند.
 - (۴) در زمینه تعلیم و تربیت مسئولین دانشگاه‌ها با دانشجویان مثل کودکان برخورد می‌کنند.
۲۹. کدام صفت‌ها به ترتیب «فاعلی، مفعولی و نسبی» است؟
- (۱) درخشنده - سیمینه - آشامیدنی
 - (۲) روشن‌تر - پرورده - کودکانه
 - (۳) نقش قسمت‌های مشخص‌شده، به ترتیب، کدام است؟
 - (۴) آسمانی - سازنده - عقلانی
۳۰. نقش قسمت‌های مشخص‌شده، به ترتیب، کدام است؟
- (۱) مسند - نهاد - متمم
 - (۲) با من او گندم‌نمایی می‌کند
 - (۳) مسند - نهاد - متمم
 - (۴) مسند - متمم - مضاف‌الیه

اطلاعات عمومی، دانش اجتماعی و حقوق اساسی

۴۱. آبشار سیمک، از جاذبه‌های طبیعی کدام استان است؟
- (۱) اصفهان
 - (۲) خراسان جنوبی
 - (۳) کرمان
 - (۴) سیستان و بلوچستان
۴۲. نقش پرچسته گل‌گل، از جاذبه‌های گردشگری کدام استان است؟
- (۱) ایلام
 - (۲) کرمانشاه
 - (۳) فارس
 - (۴) بوشهر
۴۳. ترکیب‌بند با مطلع «باز این چه شورش است که در خلق عالم است»، از کدام شاعر مرثیه‌سرای قرن دهم هجری است؟
- (۱) وحشی بافقی
 - (۲) خاقانی شروانی
 - (۳) محتشم کاشانی
 - (۴) هاتف اصفهانی
۴۴. آخرین دوره انتخابات مجلس شورای اسلامی، در چه سالی برگزار شد؟
- (۱) ۱۴۰۰
 - (۲) ۱۳۹۹
 - (۳) ۱۳۹۸
 - (۴) ۱۳۹۷
۴۵. کدام شخص، از فرماندهان لشکر ۲۷ محمد رسول‌الله است که پس از آزادسازی خرمشهر، به همراه هیئتی رسمی از مسئولان سیاسی و نظامی به سوریه اعزام شد؟
- (۱) محمد جهان‌آرا
 - (۲) احمد نیوسلیان
 - (۳) محسن رضایی
 - (۴) علی صیاد شیرازی
۴۶. حرم مطهر حضرت علی (ع)، در کدام شهر است؟
- (۱) سامرا
 - (۲) کوفه
 - (۳) کافلمین
 - (۴) نجف
۴۷. کدام مورد زیر، مصداق تفویض اختیار قانون‌گذاری مجلس شورای اسلامی به دولت به‌شمار می‌آید؟
- (۱) امکان تصویب آیین‌نامه‌های اجرایی
 - (۲) امکان تصویب آیین‌نامه‌های مستقل
 - (۳) اجازه تصویب اساسنامه سازمان‌های دولتی
 - (۴) صلاح دعاوی راجع به اموال عمومی و دولتی
۴۸. براساس آخرین اساسنامه سازمان تأمین اجتماعی، مدیرعامل آن، چگونه انتخاب می‌شود؟
- (۱) با حکم وزیر تعاون، کار و رفاه اجتماعی
 - (۲) با رأی هیئت‌مدیره سازمان
 - (۳) با نظر رئیس‌جمهور
 - (۴) با رأی هیئت‌مدیره سازمان
۴۹. در قانون اساسی، در خصوص کدام مقام زیر تصریح شده که باید مجتهد عادل و آگاه به امور قضائی باشد؟
- (۱) رئیس سازمان بازرسی کل کشور
 - (۲) رئیس دیوان عدالت اداری
 - (۳) رئیس دیوان محاسبات کشور
 - (۴) رئیس دیوان عالی کشور

۵۰. در قانون اساسی، از «شوراها» با چه عنوانی یاد شده است؟
 (۱) واحدهای بنیادی جامعه اسلامی
 (۲) ارکان تصمیم‌گیری و اداره امور کشور
 (۳) فضای مشارکت عامه مردم در تعیین سرنوشت
 (۴) وسیله جلب همکاری در تهیه برنامه‌ها و هماهنگی امور

پایان انگلیسی - عمومی:

Part A: Grammar and Vocabulary

Directions: Choose the word or phrase (1), (2), (3), or (4) that best completes each sentence. Then mark the correct choice on your answer sheet.

- 51- Surely, the results of the tests must before they are published.
 1) check
 2) be checked
 3) have checked
 4) being checked
- 52- The new course leads to a diploma by all major employers.
 1) which has recognized
 2) which recognized
 3) recognized
 4) is recognized
- 53- We are quite busy today, but I'll see if I can a meeting for sometime tomorrow morning.
 1) arrange
 2) surround
 3) communicate
 4) influence
- 54- It is generally quite difficult to raise a family on a single in many countries.
 1) culture
 2) income
 3) identity
 4) element
- 55- I've been calling Mary all morning, but she doesn't answer. I guess she's at a meeting.
 1) repeatedly
 2) suddenly
 3) finally
 4) totally

Part B: Reading Comprehension

Directions: Read the following passage and select the choice (1), (2), (3), or (4) that best answers each question. Then mark your answer on your answer sheet.

Are you healthy? Before answering, think about what you understand by "health." It doesn't just mean freedom from disease. Health is a measure of how sound and vigorous both your body and mind are. A truly healthy person has a sense of physical and mental well-being. Our health is precious and easily damaged. But there is much we can do to maintain it. Eating well, exercising, and getting enough sleep all help keep us healthy. Standards of health and health hazards are different from place to place. In some parts of the world, many people have many health problems because they are poor, hungry, and without clean drinking water. In other places, stress at work, lack of exercise, and too much food bring their own health problems, such as heart disease.

Food plays a large part in our health. A healthy diet includes fresh fruit and vegetables, meat, fish, bread, eggs, and milk, but not too many fatty, salty, or sugary

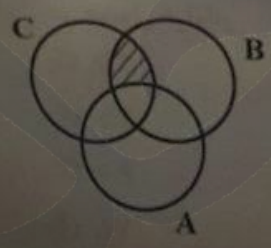
$$\frac{3 \times 2 \times 2 \times 2}{9} = \frac{24}{9} = \frac{8}{3}$$

600 F

این شش ها در کبده عبودین باغلی

Good health also depends on regular exercise because it keeps us fit. Regular exercise improves blood circulation, makes the heart and lungs work well, and keeps muscles strong and toned. It is good for the brain as well as the body, and makes us feel happy and alert. With all exercise routines, you need to do a warm-up sequence before you start and a cool-down sequence at the end to prevent strain on muscles.

- 56- Which of the following is the best title for the passage?
 1) Healthy Eating
 2) Physical Exercise
 3) Standards of Health
 4) Health and Fitness
- 57- The word "precious" in paragraph 1 means
 1) serious
 2) popular
 3) valuable
 4) important
- 58- The word "they" in paragraph 1 refers to
 1) people
 2) health hazards
 3) parts of the world
 4) health problems
- 59- The passage mentions all of the following as sources of health problems EXCEPT
 1) lack of clean drinking water
 2) stress at work
 3) too much eating
 4) smoking
- 60- According to the passage, regular exercise is good for
 1) blood circulation, muscles, and joints
 2) blood circulation, muscles, and brain
 3) heart, lungs, and joints
 4) heart, lungs, and knees



کدام است؟
 $\frac{3^2}{4} + \frac{3^2}{\sqrt{4}}$
 A) 7/4
 B) 7/2
 C) 7/1
 D) 7/0

این شش ها در کبده عبودین باغلی

کدام است؟
 $\frac{3^2}{4} + \frac{3^2}{\sqrt{4}}$
 A) 7/4
 B) 7/2
 C) 7/1
 D) 7/0

کدام است؟
 $\frac{3^2}{4} + \frac{3^2}{\sqrt{4}}$
 A) 7/4
 B) 7/2
 C) 7/1
 D) 7/0

راهنمایی: با توجه به شکل زیر، به سؤال‌های ۷۶ تا ۷۸ پاسخ دهید.

شکل زیر، بخشی از پنجره نرم‌افزار Excel 2016 را نشان می‌دهد.

	A	B	C	D	E	F	G	H	I
1		Category/Year	2010	2011	2012	2013	2014	2015	
2		Project A	10000	10351	11212	11724	11732	12151	
3		Project B	5000	5891	6557	6932	7802	7909	
4		Project C	2500	2721	3022	3989	4746	5238	
5		Project D	2500	3365	3393	3963	4746	4956	
6									

۷۶- در صورتی که بخواهیم عملیات مرتب‌سازی و فیلتر به‌درستی کار کند، نوع داده سلول انتخاب‌شده، کدام باید باشد؟

Currency (۲)

Percentage (۱)

Time (۴)

Text (۳)


۷۷- حاصل $IF(C2>D2,2010,2011)$ کدام است؟

2010 (۲)

2011 (۱)

#REF! (۱)

#VALUE! (۳)

۷۸- وجود  در کنار سلول‌ها، به کدام معناست؟

Filter فقط (۲)

Sort فقط (۱)

(۴) امکان اضافه کردن سلول جدید

Sort and Filter (۳)

۷۹- واحد سرعت انتقال داده در شبکه اینترنت، کدام است؟

hps (۲)

Mpps (۱)

bps (۴)

ppm (۳)

۸۰- ایمیلی از طریق نرم‌افزار Microsoft Outlook، به آدرس info@sanjesh.org ارسال شده است. کدام

مورد در خصوص این ایمیل در سمت گیرنده، صحیح است؟

(۱) این ایمیل، با ایمیل‌های دیگر، هیچ تفاوتی ندارد.

(۲) این ایمیل، در پوشه‌ای جدا از ایمیل‌های دیگر، متمایز می‌شود.

(۳) در موضوع (Subject) این ایمیل، می‌توان تشخیص داد که از طریق نرم‌افزار Outlook ارسال شده است.

(۴) در امضای (Signature) این ایمیل، می‌توان تشخیص داد که از طریق نرم‌افزار Outlook ارسال شده است.